

1. பொற்கொடி ஆயகலை அறுபத்து நான்கினையும் கற்றாள் - இவ்வாக்கியம் எவ்வகை வினை சார்ந்தது?
(a) பிறவினை (b) தன்வினை (c) கலவை (d) செய்யப்பாட்டு வினை
2. பொருந்தாத தொடரைக் கண்டறிக:
(a) ஓறுத்தார் - பொறுத்தார் (b) அஞ்சாமை - துஞ்சாமை (c) அறிவுடையார் - அறிவிலார் (d) வையார் - வைப்பர்
3. வினாவிற்குரிய விடை எழுதுக:
காமராசரின் பிறந்த நாளை ஆண்டுதோறும் எந்த நாளாக கொண்டாடுகிறோம்?
(a) கல்விப் பணி ஆற்றிய நாள் (b) கல்வி வளர்ச்சி நாள் (c) தொழில் முன்னேற்ற நாள் (d) தேசிய கல்வி நாள்
4. பெயர்ச்சொல்லின் வகை அறிக
'நன்மை' என்பது
(a) பொருட்பெயர் (b) சினைப் பெயர் (c) பண்புப் பெயர் (d) தொழிற் பெயர்
5. "நாட்டுதும் யாம்ஓர் பாட்டுடைச் செய்யுள்" என்று பாடத் தொடங்கிய புலவர் யார்?
(a) கம்பர் (b) கபிலர் (c) இளங்கோவடிகள் (d) சீத்தலைச் சாத்தனார்
6. வினாவிற்குரிய விடை எழுதுக
தமிழை ஆலென வளர்த்து மாண்புறச் செய்தவர் யார்?
(a) பரிதிமாற் (b) மு.வரதராஜன்
7. கடலைக் குறிக்கும் தமிழ்ச் சொற்கள்
(a) ஆழி, அம்பி, ஆர்கலி (b) பெளவம், முந்நீர், பரிசில் (c) ஆழி, ஆர்கலி, பெளவம் (d) வாரணம், பரவை, புணை
8. பொருத்தமான விடையைக் கண்டறி
"தமிழுக்குக் கதி" என்று போற்றப்படும் நூல்கள்
(a) பாட்டும் தொகையும் (b) சிலம்பும் மேகலையும் (c) இராமாயணமும் குறளும் (d) பாரதமும் இராமாயணமும்
9. பட்டியல் I ஐ பட்டியல் II உடன் ஒப்பிட்டு, கீழே கொடுக்கப்பட்டுள்ள குறியீடுகளைக் கொண்டு சரியான விடையைத் தேர்ந்தெடு.
பட்டியல் I
A) கண் வனப்பு
B) எண் வனப்பு
C) பண் வனப்பு
D) கால் வனப்பு
பட்டியல் II
1. செல்லாமை
2. இத்துணையாம்
3. கண்ணோட்டம்
4. கேட்டார் நன்றென்றல்
- குறியீடு:
A B C D
(a) 3 2 4 1
(b) 3 1 2 4
(c) 1 2 4 3
(d) 2 3 4 1

10. ஆற்றுப்படுத்தல் என்பதன் பொருள்
(a) அன்பு காட்டுதல் (b) ஆறுதல் கூறுதல்
(c) வழிகாட்டுதல் (d) ஆதரவு தருதல்
11. மனிதரெல்லாம் அன்புநெறி காண்பதற்கும் மனோபாவம் வாண்பு போல் விரிவடைந்து இப்பாடலில் கீழ்வரும் விடைகளில் பொருந்தாததைச் சுட்டுக
(a) அடி மோனை (b) அடி எதுகை
(c) அடி இயைபு (d) சீர் மோனை
12. வினாவிற்குரிய விடை எழுதுக :
அம்பேத்கார் எந்த ஆண்டு கல்விக் கழகத்தைத் தோற்றுவித்தார்?
(a) 1927 (b) 1936
(c) 1895 (d) 1946
13. “கலையுரைத்த கற்பனையே நிலையெனக் கொண்டாடும் கண்மூடி வழக்கமெலாம் மண்மூடிப் போக” – எனப் பாடியவர்
(a) வள்ளலார் (b) பாரதியார்
(c) பெருந்தேவனார் (d) பாரதிதாசனார்
14. உரிய விடையைத் தேர்ந்தெழுதுக :
பெண் அடிமை ஆனதற்கு உரிய காரணங்களில் ஒன்று எது இல்லாமை என்று பெரியார் கூறுகிறார்?
(a) வாக்குரிமை (b) பேச்சுரிமை
(c) சொத்துரிமை (d) எழுத்துரிமை
15. திரு.வி.க. பிறந்த துள்ளல் என்ற ஊர் தற்பொழுது _____ என்று அழைக்கப்படுகிறது.
(a) பல்லவபுரம் (b) இலட்சுமிபுரம்
(c) தண்டலம் (d) இராமவரம்
16. கோடிட்ட இடத்தை நிரப்புக :
கன்னியாகுமரிக்கும் மதுரைக்கும் இடையே அமைந்த நெடுஞ்சாலைக்கு பெயர் _____
(a) தில்லையாடி (b) வேலுநாச்சியார் வள்ளியம்மை
17. ‘மருகி’ என்பது யாரைக் குறிக்கும்?
(a) மருமகள் (b) மகள்
(c) கொழுந்தி (d) மாமியார்
18. பாரதியின் படைப்பில் இசையின் பெருமை பேசும் நூல் எது?
(a) கண்ணன் பாட்டு (b) குயில் பாட்டு
(c) பாப்பா பாட்டு (d) பாஞ்சாலி சபதம்
19. “புதுநெறிகண்ட புலவர்” என்று போற்றப்பட்டவர்
(a) இராமலிங்க அடிகளார் (b) தாயுமானவர்
(c) திரு.வி.க (d) கவிமணி
20. பட்டியல் I பட்டியல் II உடன் ஒப்பிட்டு, கீழே கொடுக்கப்பட்டுள்ள குறியீடுகளைக் கொண்டு சரியான விடையைத் தேர்ந்தெடு.
பட்டியல் I பட்டியல் II
A) அன்பிலார் 1. ஆர்வமுடைமை
B) அன்புடையார் 2. உயிர்நிலை
C) அன்பு ஈனும் 3. என்பும் உரியர்
D) அன்பின் 4. எல்லாம் தமக்குரியர்
வழியது
குறியீடு:
A B C D
(a) 2 3 4 1
(b) 4 3 1 2
(c) 1 4 2 3
(d) 3 2 1 4
21. பொருளுக்கு ஏற்ற பொருத்தமான உவமையைத் தேர்ந்தெடுத்து எழுதுக.
(a) கீரியும் பாம்பும் (b) இலவு காத்த கிளி போல போல
(c) கிணற்றுத் தவளை (d) அனலிடைப்பட்ட புழு போல

22. இலக்கணக் குறிப்பறிதல் :
பின்வரும் இலக்கணக் குறிப்புக்குப் பொருந்தாதச் சொல்லைத் தேர்ந்தெடுக்கவும்.

பண்புத் தொகை

- (a) நெடுந்தேர் (b) மலர்ச்சேவடி
(c) செங்கோல் (d) கருங்குரங்கு

23. பெயர்ச் சொல்லின் வகையறிதல் :

“கரியன்” – என்ற பெயர்ச் சொல்லின் வகை அறிக.

- (a) சினைப் பெயர் (b) பொருட் பெயர்
(c) பண்புப் பெயர் (d) தொழிற் பெயர்

24. “நாமார்க்கும் குடியல்லோம் நமனை அஞ்சோம்

நகரத்தில் இடர்ப்படோம் நடலை இல்லோம்”
இப்பாடலடிகளில் இடம்பெற்றுள்ள ‘நடலை’க்கு
இணையான ஆங்கிலச் சொல்லை எழுதுக.

- (a) Affection (b) Affliction
(c) Attraction (d) Addition

25. பெயர்ச் சொல்லின் வகையறிதல் :

‘ஆதிரையான்’ என்ற பெயர்ச் சொல்லின் வகையறிக.

- (a) பண்புப் பெயர் (b) தொழிற் பெயர்
(c) காலப் பெயர் (d) குணப் பெயர்

26. “இழுக்க லுடையுழி ஊற்றுக்கோ லற்றே

ஓழுக்க முடையார்வாய்ச் சொல்”.

அடிக்கோடிட்ட சொல்லுக்கு இணையான
ஆங்கிலப் பதத்தினைத் தேர்க.

- (a) An assistant (b) Supporter
(c) Staff (d) Friends

27. கோடிட்ட இடத்தை நிரப்புக :

நிகண்டுகளில் மிகப் பழமையானது _____

- (a) சேந்தன் திவாகரம் (b) சூடாமணி
நிகண்டு
(c) அகராதி (d) இதில் எதுவும் இல்லை

28. பட்டியல் I ஐ பட்டியல் II உடன் ஒப்பிட்டு, கீழே
கொடுக்கப்பட்டுள்ள குறியீடுகளைக் கொண்டு
சரியான விடையைத் தேர்ந்தெடு.

பட்டியல் I

பட்டியல் II

- | | |
|-------|-----------------------|
| A) ஓ | 1. கோபம் |
| B) மா | 2. சோலை |
| C) கா | 3. நீர் தாங்கும் பலகை |
| D) தீ | 4. திருமகள் |

குறியீடு:

	A	B	C	D
(a)	2	4	1	3
(b)	1	3	4	2
(c)	3	4	2	1
(d)	4	1	3	2

29. ‘முருகு பொருநாறு பாணிரண்டு முல்லை’

இத்தொடரில் ‘பாணிரண்டு’ என்ற தொடரால்
குறிக்கப்படும் நூல்கள் எவை?

- (a) அகநானூறு, புறநானூறு
(b) முல்லைப்பாட்டு, குறிஞ்சிப்பாட்டு
(c) திருமுருகாற்றுப்படை, பொருநராற்றுப்படை
(d) சிறுபாணாற்றுப்படை,
பெரும்பாணாற்றுப்படை

30. உரிய விடையைத் தேர்க :

அகராதி என்னும் சொல்லை முதன் முதலாக
ளகையாண்டவர் யார் ?

- (a) திருமூலர் (b) வீரமாமுனிவர்
(c) திருநாவுக்கரசர் (d) கம்பர்

31. பொருத்துக:

- | | |
|--------------|--------------------|
| (A) Fanfare | 1. இணக்கமுள்ள |
| (B) Fangle | 2. வீட்டுப் புறா |
| (C) Fantaile | 3. எக்காள முழக்கம் |
| (D) Facile | 4. நாகரிகம் |

குறியீடு :

	A	B	C	D
(a)	3	4	2	1
(b)	4	1	3	2
(c)	2	3	4	1
(d)	1	4	2	3

32. ஐஞ்சிறு காப்பியம் - இவற்றுள் பொருந்தா நூலைக் கண்டறி.

- (a) உதயண குமார (b) இராவண காவியம்
(c) நாக குமார (d) யாசோதரா காவியம்

37. உரிய விடையை எழுது :

- “உலகெல்லாம் உணர்ந்து ஒதற்கரியவன்” எனத் தொடங்கும் பாடல் இடம் பெற்றுள்ள நூல் எது?
(a) கந்தபுராணம் (b) திருமந்திரம்
(c) பெரியபுராணம் (d) திருவிளையாடற் புராணம்

33. பட்டியல் I ஐ பட்டியல் II உடன் ஒப்பிட்டு, கீழே கொடுக்கப்பட்டுள்ள குறியீடுகளைக் கொண்டு சரியான விடையைத் தேர்ந்தெடு.

பட்டியல் I	பட்டியல் II
A) புள்	1. விரைவு
B) குலவு	2. கலப்பை
C) மேழி	3. அன்னம்
D) ஓல்லை	4. விளங்கும்

குறியீடு:

	A	B	C	D
(a)	2	4	1	3
(b)	4	1	2	3
(c)	3	4	2	1
(d)	3	1	4	2

38. அகர வரிசைப்படி சொற்களைச் சீர்செய்தல்

- (a) வீண், வீழ்ச்சி, வீடு, வீதி
(b) வீடு, வீண், வீதி, வீழ்ச்சி
(c) வீழ்ச்சி, வீண், வீதி, வீதி
(d) வீழ்ச்சி, வீதி, வீதி, வீண்

39. எடு - என்னும் வேர்ச் சொல்லின் வினையெச்சத்தை எழுதுக.

- (a) எடுத்த (b) எடுத்தல்
(c) எடுத்து (d) எடுத்தான்

40. கோடிட்ட இடத்தை நிரப்புக :

- ‘ஞால்’ என்பதற்கு _____ என்பது பொருள்
(a) தொங்குதல் (b) ஞாலம்
(c) தொடங்குதல் (d) வாழ்தல்

34. பொருந்தா இணையைக் கண்டறிக.

- (a) Mishap - விபத்து (b) Miserable - துக்ககரமான
(c) Mislay - தவறான செயல் (d) Misdeed - கெட்ட செயல்

41. “வள்ளுவனைப் பெற்றதாற் பெற்றதே புகழ் வையகமே” - பாடியவர் யார்?

- (a) பாரதியார் (b) சுரதா
(c) தாரா பாரதி (d) பாரதிதாசன்

42. விடைக்கேற்ற வினாவைத் தேர்க.

- ‘அன்புள இனி நாம் ஓர் ஐவர்கள் உளரானோம்’
(a) எதனால் (b) ஐவர் யார்?
(c) ஐவரானார்கள்? (d) யாரிடம் வந்தவன் யார்? கூறினான்?

36. பின்வரும் இரண்டினும் பொருள் பொருந்தாத இணையைத் தேர்ந்தெடு

கழை	களை
(a) கரும்பு	~ ஜிழுகு
(b) ணங்கில்	~ காந்தி
(c) வேய்	~ சீலை
(d) கழி	~ ஜகற்றன்

43. தமிழ் எழுத்துகளில் ஒரு நல்ல சீர்திருத்தத்தினைக் கொண்டந்தவர் யார்?

- (a) வேதநாயகம் பிள்ளை (b) வீரமாமுனிவர்
(c) எச்.ஏ.கிருஷ்ணப் பிள்ளை (d) உ.வே. சாமிநாதையர்

44. உவமைக்கு ஏற்ற பொருத்தமான பொருளைத் தேர்ந்தெடுத்த எழுதுக.
“கொக்கொக்க கூம்பும் பருவத்து”

- (a) காத்திருத்தல் (b) வெறுத்திருத்தல்
(c) அறியாதிருத்தல் (d) மறந்திருத்தல்

45. பெயர்ச்சொல்லின் வகையறிதல்
சினைப் பெயரைத் தேர்ந்து எழுதுக.

- (a) ஊரன் (b) முக்கண்
(c) வறியன் (d) கடையன்

46. மனக்குகை – இலக்கணக் குறிப்பு எழுதுக

- (a) வினைத் தொகை (b) உவமைத் தொகை
(c) உருவகம் (d) உம்மைத் தொகை

47. இலக்கணக் குறிப்பறிதல்

சான்று : உளமனைய தண்ணளித்தாய் உறுவேனிற் பரிவகற்று

‘உறுவேனில்’ – இலக்கணம் தேர்ந்து எழுது.

- (a) வினைத் தொகை (b) அன்மொழித் தொகை
(c) தொழில் பெயர் (d) உரிச் சொல் தொடர்

48. கீழ்க்காணும் தொடர்களில் எத்தொடர் சரியானது?

- (a) சன்மார்க்க கவி (b) சிலம்புச் செல்வர் இராமலிங்க அடிகளார்
(c) இசைக்குயில் (d) கவிக்கோ சரோஜினி நாயுடு முடியரசன்

49. தன்வினை வாக்கியத்தைக் கண்டறிக

- (A) இலக்கியா புத்தாடை அணிவித்தாள்
(B) இலக்கியா புத்தாடை அணிந்தாள்
(C) புத்தாடை இலக்கியாவால் அணிவிக்கப்பட்டது
(D) இலக்கியா புத்தாடை அணியாள்

50. திரு.வி.க. இயற்றிய ‘பொதுமை வேட்டல்’ என்னும் நூலில் உள்ள பாக்களின் எண்ணிக்கை _____

- (a) நானூற்று முப்பது (b) இருநூற்று ஒன்று
(c) முந்நூற்று ஆறு (d) நானூற்று எழுபது

51. தமிழ் : இலக்கணக் குறிப்பு தருக.

- (a) செய்யுளியை (b) ஈறுகெட்ட எதிர்மறை பெயரெச்சம்
(c) இன்னிசையளபெடை (d) சொல்லிசை அளபெடை

52. உலகம் என்ற தமிழ்ச் சொல்லின் வேர்ச்சொல் எது?

- (a) உலகு (b) உலவு
(c) உளது (d) உளம்

53. ஒருமைப் பன்மைப் பிழையற்ற தொடர் எது?

- (a) அவன் கவிஞன் (b) அவன் கவிஞன் அல்லர் அன்று
(c) அவன் கவிஞன் (d) அவன் அல்லன் கவிஞன் அல்லன்

54. ஞானப்பச்சிலை எனப் போற்றப்படும் மூலிகை _____

- (a) துளசி (b) கீழாநெல்லி
(c) தூதுவளை (d) கற்றாழை

55. உரிய விடையைத் தேர்வக:

திருக்குறளை நாற்பதாண்டுகள் படித்துச் சுவைத்த போப், அதனை ஆங்கிலத்தில் எந்த ஆண்டு மொழி பெயர்த்து வெளியிட்டார்?

- (a) 1786 (b) 1858
(c) 1808 (d) 1886

56. வருக – என்பதன் இலக்கணக் குறிப்பு தேர்வக :

- (a) வினையெச்சம் (b) உருவகம்
(c) உரிச்சொல் (d) வியங்கோள் தொடர் வினைமுற்று

57. பொருந்தாத தொடரைக் குறிப்பிடுக

- (a) கலம்பகம் ~ (b) சிற்றிலக்கியங்கள்
பதினெட்டு ~
உறுப்புகள் தொண்ணூற்றாறு
(c) பிள்ளைத் தமிழ் ~ (d) பரணி ~ 100
பத்துப் தாழிசைகள்
பருவங்கள்

58. பின்வரும் தொடர்களில் இராமலிங்க அடிகளார் கூறியவை

- (a) நான் தனியாக வாழவில்லை, தமிழோடு வாழ்கிறேன்
(b) வெயிலுக்கு ஒதுங்கும் விருட்சம் அழிக்காதே
(c) பெண்களே சமூகத்தின் கண்கள்
(d) சமத்துவத்தின் மறுபெயரே மனிதநேயம்

59. பின்வரும் சொற்களுள் குற்றியலுகரம் அல்லாத சொல்லைக் கண்டறிக

- (a) மாற்பு (b) வரகு
(c) மடு (d) மாசு

60. சித்துகளின் எண்ணிக்கை

- (a) பன்னிரண்டு (b) பதினெட்டு
(c) பத்து (d) எட்டு

61. சரியான பொருள் தருக :

‘இந்து’

- (a) நிலவு (b) துன்பம்
(c) பிட்டு (d) தலைவன்

62. தொண்டுக்கு முந்து, தலைமைக்குப் பிந்து எனக் கூறியவர்

- (a) காந்தியடிகள் (b) பேரறிஞர் அண்ணா
(c) மு.வரதராசனார் (d) பெரியார்

63. உரிய மரபுச் சொல்லை எழுதுக.

“மயில்”

- (a) கரையும் (b) பிளிறும்
(c) அலறும் (d) அகவும்

64. ‘வந்தான்’ என்னும் வினைமுற்று _____ என வினையாலணையும் பெயராய் வரும்.

- (a) வருவான் (b) வாரான்
(c) வந்தவன் (d) வந்த

65. ஆசிரியப்பாவின் ஈற்றுச்சீர் _____ முடிவது சிறப்பு

- (a) ஆகாரத்தில் (b) ஏகாரத்தில்
(c) ஓகாரத்தில் (d) ஈகாரத்தில்

66. “தித்திக்குந் தெள்ளமுதாய்த் தெள்ளமுதின” கீழ்க்காணும் விடைகளுள் சரியான விடை எது?

- (a) எதுகை மட்டும் வந்துள்ளது
(b) மோனை மட்டும் வந்துள்ளது
(c) எதுகை, மோனை இயைபு வந்துள்ளன
(d) எதுகையும், மோனையும் வந்துள்ளன

67. “இம்மென்னும் முன்னே எழுநூறும் எண்ணூறும், அம்மென்றால் ஆயிரம் பாட்டும்” பாடவல்ல ஆசகவி யார்?

- (a) காளமேகப் புலவர் (b) பாரதியார்
(c) இளஞ்சூரியர் (d) முது சூரியர்

68. தவறான கூற்றைத் தேர்வு செய்க

- (a) “மானிடவர்க்கு என்று பேச்சுப்படி வாய்க்கில்லேன்” ~ ஆண்டாள்
(b) “வானாளும செல்வமும் மண்ணரசும் யான் வேண்டேன்” ~ குலசேகர ஆழ்வார்
(c) “கருவினும் கருவாய் பெருந்தவம் புரிந்த கருத்தனைப் பொருந்துதல் கருத்தே” ~ எச்.ஏ.கிருஷ்ணபிள்ளை
(d) “ஆதியும் அந்தமும் இல்லா அருட்பெருஞ்சோதி” ~ மாணிக்கவாசகர்

69. பொருத்துக:

- | | |
|-------|-------------|
| A) ஊ | 1. தலைவன் |
| B) ஐ | 2. ஊன் |
| C) நொ | 3. கடவுள் |
| D) தே | 4. துன்புறு |

குறியீடு :

	A	B	C	D
(a)	1	4	3	2
(b)	2	1	4	3
(c)	4	3	2	1
(d)	3	1	2	4

70. பொருத்துக:

A) சிலப்பதிகாரம்	1. சீர்திருத்தக் காப்பியம்
B) மணிமேகலை	2. சொற்போர் காப்பியம்
C) சீவகசிந்தாமணி	3. குடிமக்கள் காப்பியம்
D) குண்டலகேசி	4. வருணனைக் காப்பியம்

குறியீடு :

	A	B	C	D
(a)	3	1	4	2
(b)	3	2	4	1
(c)	2	1	3	4
(d)	4	3	1	2

71. 'செழுங்கனித் தீஞ்சுவை' என்ற சொற்றொடர் சரியாகப் பிரிக்கப்பட்டிருப்பது எது?

- (A) செழுமை * கனி * தீஞ்சுவை
(B) செழும் * கனி * தீஞ்சுவை
(C) செழும் * கனி * தீம் * சுவை
(D) செழுமை * கனி * தீம் * சுவை

72. 'முடுகினன்' என்ற சொல்லுக்கு ஏற்ற எதிர்ச் சொல் எது?

- (a) செலுத்தினான் (b) நிறுத்தினான்
(c) வளைத்தான் (d) முறித்தான்

73. "வையக மெல்லா மெமதென் றெழுதுமே" என்ற புகழ்ச்சிக்குரிய மன்னன் யார்?

- (a) சேரன் (b) பல்லவன்
(c) சோழன் (d) பாண்டியன்

74. சரியானவற்றைக் காண்க

- 1) நீ * ஐ = நின்னை
2) நீ * அது = நினது
3) நீ * ஆல் = நீயால்
4) நீ * கு = நீக்கு

குறியீடு

- (a) 2, 3 - சரி (b) 1, 2 - சரி
(c) 3, 4 - சரி (d) நான்கும் சரி

75. இலக்கணக் குறிப்பறிதல் :

- பின்வரும் இலக்கணக்குறிப்புக்கு பொருந்திய சொல்லைத் தேர்ந்தெடுக்க
வினைத் தொகை
(a) செந்நாய் (b) சூழ்கழல்
(c) வெண்மதி (d) கண்ணோட்டம்

76. கோட்டிட இடத்தை நிரப்புக :

தில்லையாடி வள்ளியம்மை _____ நாட்டில் பிறந்தார்

- (a) அமெரிக்கா (b) இத்தாலி
(c) இந்தியா (d) தென்னாப்பிரிக்கா

77. 'பாவை பாடிய வாயால் கோவை பாடுக' என்று சொல்லக் கேட்டு பாடப்பட்ட நூல் எது?

- (a) அசதிக் கோவை (b) ஆசாரக் கோவை
(c) திருக்கோவையார் (d) மும்மணிக்கோவை

78. பரணி இலக்கியத்திற்குரிய பாவகையைக் குறிப்பிடுக

- (a) வெண்பா (b) விருத்தப்பா
(c) கலி விருத்தம் (d) கலித்தாழிசை

79. பட்டியல் I ஐ பட்டியல் II உடன் ஒப்பிட்டு, கீழே கொடுக்கப்பட்டுள்ள குறியீடுகளைக் கொண்டு சரியான விடையைத் தேர்ந்தெடு.

பட்டியல் I

பட்டியல் II

- A) களவழி 1. நிலையாமை
நாற்பது
B) முதுமொழிக் 2. வேளாண் வேதம்
காஞ்சி

- C) நாலடியார்
D) ஏலாதி

3. ஆறு மருந்து
4. புறப்பொருள்

குறியீடு:

A B C D

- (a) 3 1 2 4
(b) 2 3 4 1
(c) 1 3 4 2
(d) 4 1 2 3

- C) அறிவுடையார்
D) இடுக்கண்
3. நலில் தோறும்
4. தேய்பிறை
களையும் நட்பு

குறியீடு:

A B C D

- (a) 4 3 2 1
(b) 3 4 2 1
(c) 4 3 1 2
(d) 1 2 3 4

80. அடிவரையறை அறிந்து சரியான வரிசையைக் குறிப்பிடுக.

- 1) 3 - 6
2) 4 - 8
3) 9 - 12
4) 13 - 31

குறியீடு

- (a) ஐங்குறுநாறு, குறுந்தொகை, நற்றிணை, அகநானூறு
(b) அகநானூறு, நற்றிணை, குறுந்தொகை, ஐங்குறுநாறு
(c) குறுந்தொகை, ஐங்குறுநாறு, நற்றிணை, அகநானூறு
(d) நற்றிணை, அகநானூறு, ஐங்குறுநாறு, குறுந்தொகை

81. தன்வினையைத் தேர்ந்து எழுதுக

- (a) அப்பூதி அடிகள் நான்மறை கற்கவில்லை
(b) அப்பூதி அடிகள் நான்மறை கற்பித்தார்
(c) அப்பூதி அடிகள் நான்மறை கற்றார்
(d) அப்பூதி அடிகள் நான்மறை கற்றாரா?

82. பட்டியல் I ஐ பட்டியல் II உடன் ஒப்பிட்டு, கீழே கொடுக்கப்பட்டுள்ள குறியீடுகளைக் கொண்டு சரியான விடையைத் தேர்ந்தெடு.

பட்டியல் I

பட்டியல் II

- A) பேதையர் நட்பு 1. உடுக்கை இழந்தகை
B) பண்புடையார் 2. வளர்பிறை
தொடர்பு

83. சரியான விடையைத் தேர்வு செய்க

'ஆயிடை அணங்கின் கற்பும் ஐய நின்னருளும் செய்ய தூய நல்லறனும் என்றிங்கிணையன தொடர்ந்து காப்ப' இவ்வரிகளில் சீதையை அழியாமல் காப்பாற்றியவை எவை?

- (a) அன்பும் பண்பும் (b) அறிவும் ஆற்றலும்
(c) அறனும் மறனும் (d) கற்பும் அருளும்

84. 'வளன்' என்ற சொல்லால் குறிக்கப்படுபவன் யார்?

- (a) தாவீது (b) கோலியாத்து
(c) சூசையப்பர் (d) சவுல் மன்னன்

85. அகர வரிசைப்படி சொற்களைச் சீர் செய்தல்

- (a) தரங்கம், தையல், தோடு, திட்டம், தோடு
(b) தையல், தோடு, திட்டம், தரங்கம்
(c) தரங்கம், திட்டம், தையல், தோடு
(d) தரங்கம், தையல், தோடு, திட்டம்

86. பொருத்துக:

புலவர்

நூல்

- A) உமறுப் புலவர் 1. தொன்னூல் விளக்கம்
B) கம்பர் 2. நரிவிருத்தம்
C) திருத்தக்கதேவர் 3. சிலை எழுபது
D) வீரமாமுனிவர் 4. முதுமொழிமாலை

குறியீடு :

A B C D

(a) 4 2 3 1

(b) 4 3 2 1

(c) 3 1 4 2

(d) 2 4 1 3

87. 'உறுமிடத் துதவா உவர்நிலம்' என்ற வரிகள் இடம்பெற்ற நூல் எது?

(a) புறநானூறு (b) அகநானூறு

(c) ஐங்குறுநூறு (d) திருக்குறள்

88. திரு.வி.க. எந்த நாளிதழ் ஆசிரியராக பணியாற்றினார்?

(a) தேச பக்தன் (b) தென்றல்

(c) இந்தியா (d) சுதேசமித்திரன்

89. 'பொறு' என்னும் வேர்ச் சொல்லின் வினையாலணையும் பெயரை தேர்ந்தெடு

(a) பொறுத்தான் (b) பொறுத்து

(c) பொறுத்தல் (d) பொறுத்தவர்

90. 'அன்பருக்குப் பணி செய்வதே உண்மைத் தொண்டு' எனக் கூறியவர் யார்?

(a) இராமலிங்க அடிகள் (b) தாயுமானவர்

(c) ஆறுமுக நாவலர் (d) குமரகுருபரர்

91. சரியான விடையைத் தேர்வு செய்க. கம்பநாடகத்தின் யாப்பு வண்ணங்களின் எண்ணிக்கை

(a) 100 (b) 80

(c) 96 (d) 108

92. 'பண்ணொடு தமிழொப்பாய்' எனத் தொடங்கும் பாடல் இடம்பெறும் நூல்

(a) திருவாசகம் (b) தேவாரம்

(c) திருக்கோவையார் (d) திருமந்திரம்

93. பொருந்தாத தொடரைக் கண்டறிக :

(a) அடக்கம் அமரருள் (b) கற்க கசடற உய்க்கும்

(c) தீதும் நன்றும் (d) செல்வத்துள் செல்வம்

செவிச்செல்வம்

94. பொருத்துக:

யாருடைய கூற்று

A) தேரா மன்னா 1. மணிமேகலை செப்புவது உடையேன்

B) தீயும் கொல்லாத் 2. கோவலன் தீவினை யாட்டியேன்

C) சிறைக் கோட்டத்தை 3. கண்ணகி அறக் கோட்டமாக்குக

D) சீறடிச் சிலம்பு 4. ஆதிரை கொண்டுபோய் மாறிவருவன்

குறியீடு :

A B C D

(a) 3 4 1 2

(b) 3 4 2 1

(c) 4 3 2 1

(d) 1 2 3 4

95. 63 தனியடியார் வரலாற்றைக் கூறும் நூல் எது?

(a) கந்தபுராணம் (b) திருவிளையாடற் புராணம்

(c) பெரிய புராணம் (d) தணிகை புராணம்

96. பொருத்தமான பழமொழியைக் கண்டறிக

கற்றாரைக் கற்றாரே காழுறுவர்

(a) ஞாயிறைக் (b) முள்ளினால் கைமறைப்பார் முள்களையும்

இல் ஆறு

(c) பாம்பு அறியும் (d) ஆற்று உணர் பாம்பின் கால் வேண்டுவது இல்

97. சரசுவதி என்று சித்தர்கள் எதனைக் குறிப்பிடுகின்றனர்?

(a) காசினிக் கீரை (b) வல்லாரைக் கீரை

(c) பசரைக் கீரை (d) அகத்திக் கீரை

98. உரிய விடையைத் தேர்வ : (b) 4 2 1 3

தமிழ் படித்தால் எது பெருகும்?

- (a) புதுமை (b) திறம்
(c) அறம் (d) புறம்

(c) 2 4 3 1

(d) 3 2 1 4

99. பொருத்துக:

- | | |
|-------------|--------------|
| (A) Camphor | 1. பொய்க்கதை |
| (B) Chide | 2. கலவரம் |
| (C) Chaos | 3. சலசலப்பு |
| (D) Canard | 4. கற்பூரம் |

குறியீடு :

A B C D

(a) 1 4 2 3

(b) 3 1 4 2

(c) 2 4 1 3

(d) 4 3 2 1

100. நடிப்புச் செவ்வியம் இலக்கியச் செவ்வியம் ஒருங்கே அமையப் பெற்ற காப்பியம் எது?

- (a) சிலப்பதிகாரம் (b) பாஞ்சாலி சபதம்
(c) மனோன்மனியம் (d) மணிமேகலை

101. பொருத்துக:

- | | |
|-------------------------------|---------|
| A) நேரு அறிக்கை | 1. 1940 |
| B) இரண்டாவது வட்ட மேஜை மாநாடு | 2. 1928 |
| C) தனி நபர் சத்யாகிரகம் | 3. 1946 |
| D) அட்லி பிரபுவின் அறிவிப்பு | 4. 1931 |

Match the following

- | | |
|----------------------------------|---------|
| A) Nehru Report | 1. 1940 |
| B) Second Round Table Conference | 2. 1928 |
| C) Individual Satyagraha | 3. 1946 |
| D) Lord Attlee's Announcement | 4. 1931 |

Codes:

A B C D

(a) 2 4 1 3

102. கீழ்க்கண்ட வாக்கியங்களை கவனி:

சுற்று (A) : புயலின்போது அலைகளின் உயரத்தைக் குறைக்க கப்பலைச் சுற்றி எண்ணெய் ஊற்றப் படுகிறது.

காரணம் (R) : எண்ணெயின் பரப்பு இழுவிசை கடல் நீரின் பரப்பு இழுவிசையை விடக்குறைவு. அலையின் சீற்றத்தைக் குறைக்கும்.

- a) (A) சரி ஆனால் (b) (A) மற்றும் (R) (R) தவறு சரி
c) (R) சரி (A) தவறு d) (A) மற்றும் (R) இரண்டும் தவறு

Consider the following statement:

Assertion(A) : To reduce the high tides of sea during storm oil is poured around the ship.

Reason(R) : Surface tension of oil is less than sea water, reduces the wrath of waves.

- a) A is true but R is false b) A is false but R is true
c) Both A and R are individually true and R is the correct explanation of A d) Both A and R are individually true and R is not the correct explanation of A

103. பின்வருவனவற்றுள் எதில்

மின்னூட்டங்களுக்கிடையே உணரப்படும் விலக்கு மற்றும் ஈர்ப்பு விசை பயன்படுகிறது?

- (a) A.C.மின்னியற்றி (b) நிலைமின் வண்ணம் தெளித்தல்
(c) மின்னழுத்தமானி (d) மீட்டர் சமனச்சுற்று

The property of attraction or repulsion between charged bodies is used in

- (a) A.C. Generator (b) Electrostatic paint spraying
(c) Potentiometer (d) Metre Bridge

106. போபால் துயரச் சம்பவம் நடைபெற்ற ஆண்டு

- (a) 1980 (b) 1978
(c) 1975 (d) 1984

The Bhopal Gas Tragedy happened in

- (a) 1980 (b) 1978
(c) 1975 (d) 1984

104. இரண்டு தனி ஊசலின் அலைவு காலம் 2 : 1 என்ற விகிதத்திலுள்ளது. அவைகளின் நீளத்திற்கான விகிதம் முறையே

- (a) 4 : 1 (b) 1 : 4
(c) 1 : 1 (d) 1 : 2

The time periods of two simple pendulum are in the ratio 2 : 1. The corresponding ratio of their lengths is

- (a) 4 : 1 (b) 1 : 4
(c) 1 : 1 (d) 1 : 2

107. 'அக்னி சிறகுகள்' என்ற புத்தகத்தை எழுதியவர்

- (a) நேரு (b) A.P.J. அப்துல் கலாம்
(c) காமராஜ் (d) மகாத்மா காந்தி

The books 'Wings of Fire' was written by

- (a) Nehru (b) A.P.J. Abdul Kalam
(c) Kamaraj (d) Mahatma Gandhi

105. இந்தியாவின் குடியரசுத் தலைவர்களை, அவர்களின் பதவிக்கால அடிப்படையில் வரிசைப்படுத்துக.

- 1) ஆர். வெட்கட்ராமன்
2) டாக்டர் சங்கர் தயாள் சர்மா
3) டாக்டர் கே. ஆர். நாராயணன்
4) டாக்டர் ஏ. பி. ஜே. அப்துல் கலாம்

- (a) 1, 2, 3, 4
(b) 3, 4, 1, 2
(c) 3, 1, 2, 4
(d) 3, 2, 1, 4

Arrange the President of India in chronological order of their term in Office.

- 1) R. Venkatraman
2) Dr. Sankar Dayal Sharma
3) Dr. K.R. Narayanan
4) Dr. A.P.J. Abdul Kalam

- (a) 1, 2, 3, 4
(b) 3, 4, 1, 2
(c) 3, 1, 2, 4
(d) 3, 2, 1, 4

108. கேள்விக் குறியிட்ட இடத்தில் வரும் எண் யாது?

T	S
W	D
3	15
10	?
J	P
T	G

- (a) 9 (b) 6
(c) 7 (d) 3

What will come in the place of a question mark?

- (a) 9 (b) 6
(c) 7 (d) 3

109. பின்வரும் தொடர்வரிசையில் தவறான எண் என்ன?

623, 251, 543, 356

- (a) 543 (b) 251
(c) 623 (d) 356

Find out the wrong number in the sequence

623, 251, 543, 356

- (a) 543 (b) 251
(c) 623 (d) 356

110. பின்வரும் தொடர்வரிசையில் தவறான எண் என்ன?

121, 264, 312, 462, 583,

(a) 583

(b) 264

(c) 121

(d) 312

Find out the wrong number in the sequence

121, 264, 312, 462, 583,

(a) 583

(b) 264

(c) 121

(d) 312

111. பட்டியல் I ஐ பட்டியல் II உடன் பொருத்துக:

பட்டியல் I

(காலம்)

பட்டியல் II

(கலை பாணி)

- | | |
|-------------------|-----------------------|
| A) குஷாணர்கள் | 1. திராவிடப் பாணி |
| B) குப்தர்கள் | 2. வேசரா பாணி |
| C) சாளுக்கியர்கள் | 3. நகரா பாணி |
| D) சோழர்கள் | 4. காந்தாரக் கலை பாணி |

Match the following with suitable options:

List I

(Age)

List II

(Art Style)

- | | |
|--------------|-----------------------|
| A) Kushanas | 1. Dravidian style |
| B) Guptas | 2. Vesara style |
| C) Chalukyas | 3. Nagara style |
| D) Cholas | 4. Gandhara Art style |

Codes:

A B C D

(a) 4 3 2 1

(b) 4 2 1 3

(c) 3 2 1 4

(d) 3 1 2 4

112. எந்த அரசியலமைப்பு சட்டம் குடியரசு தலைவருக்கு பாராளுமன்றத்தின் கீழ் அவையை கலைக்க அதிகாரம் அளிக்கிறது?

(a) விதி 85

(b) விதி 95

(c) விதி 81

(d) விதி 75

Which article empowers the President to dissolve the Lok Sabha at any time before its tenure?

(a) Art 85

(b) Art 95

(c) Art 81

(d) Art 75

113. G-20 அமைப்பில் இடம் பெறாத நாடு எது?

(a) அர்ஜென்டைனா

(b) வடக்கு ஆப்பிரிக்கா

(c) பொலிவியா

(d) எகிப்து

Which is not the member of G-20?

(a) Argentina

(b) North Africa

(c) Bolivia

(d) Egypt

114. பின்வருவனவற்றுள் தவறானவை எது/எவை?

- 1) சர் சையத் அகமது கான் அலிகார் இயக்கத்தை வழி நடத்தினார்.
- 2) சர் சையத் அகமது கான் சுத்தி இயக்கத்தை ஆதரித்தார்.
- 3) சர் சையத் அகமது கான் ஆங்கிலோ-ஓரியண்டல் கல்லூரியை ஆரம்பித்தார்.

(a) 2 மட்டும்

(b) 1 மற்றும் 2

(c) 1 மற்றும் 3

(d) 1, 2 மற்றும் 3

Which of the following is/are wrong?

- 1) Aligarh movement was led by Sir Syed Ahmed Khan.
- 2) Sir Syed Ahmed Khan. supported Shuddhi movement.
- 3) Sir Syed Ahmed Khan. started Anglo-oriental college.

(a) 2 only

(b) 1 and 2

(c) 1 and 3

(d) 1, 2 and 3

115. சரியாக பொருந்தியுள்ள இணையைத் தேர்வ:

- (a) எட்டயபுரம் ~ கலெக்டர் ஆஷ்
 (b) ஜாலியன் வாலாபாக் ~ ஹண்டர் கமிட்டி துயரம்
 (c) சுயராஜ்ஜிய கட்சி ~ B.G. திலகர்
 (d) மதுவிலக்கு ~ வ.உ.சிதம்பரனார்

Which one of the following is correctly matched?

- (a) Ettayapuram ~ Collector Ashe
 (b) Jallian Walah Bagh ~ Hunter Tragedy Committee
 (c) Swaraj Party ~ B.G. Tilak
 (d) Prohibition ~ V.O. Chidambaranar

116. நுகர்வோரியலின் தந்தை என கருதப்படுபவர யார்?

- (a) மஹாத்மா காந்தி (b) இந்திரா காந்தி
 (c) ஜான் F. கென்னடி (d) ரால்ப் ரேடர்

Who is the Father of Consumer Movement?

- (a) Mahatma Gandhi (b) Indira Gandhi
 (c) John F. Kennedy (d) Ralph Radar

117. இந்தியாவில் பணக் கொள்கையை வடிவமைப்பது யார்?

- (a) இந்திய நிதியமைச்சர் (b) ரிசர்வ் பாங்க் ஆப் இந்தியா
 (c) இந்திய பிரதமர் (d) பன்னாட்டு நிதி நிறுவனம்

Who farms the monetary policy of India?

- (a) Finance Minister of India (b) Reserve Bank of India
 (c) Prime Minister of India (d) International Monetary Fund

118. கீழ்க்காணும் வாக்கியங்களை ஆய்க. அவற்றுள் சரியானதை தேர்வு செய்க. வால் மீன்களில் வால்பகுதி எப்பொழுது தோன்றாது?

- 1) அவை சூரியனை விட்டு தொலைவில் இருக்கும் பொழுது.

2) அவை சூரியனுக்கு அருகில் இருக்கும் பொழுது.

3) அவை பூமிக்கு அருகில் இருக்கும் பொழுது.

4) அவை பூமிக்கும், சூரியனுக்கும் இடையில் இருக்கும் பொழுது.

(a) 1, 2, 3 மற்றும் 4 தவறு

(b) 1 சரியானது 2, 3 மற்றும் 4 தவறு

(c) 1 தவறு ஆனால் 2, 3, 4 சரி

(d) 1, 2, 3 மற்றும் 4 சரி

Consider the following statements. Choose the correct answer.

"Comets have no tail"

1) When they are far away from the sun.

2) When they are close to the sun.

3) When they are close to the earth

4) When they are in between the earth and the sun

(a) 1, 2, 3 and 4 are wrong

(b) 1 is correct but 2, 3, and 4 are wrong

(c) 1 is wrong but 2, e and 4 are correct

(d) 1, 2, 3 and 4 are correct

119. அரசியல் நிர்ணய சபையின் முதல் கூட்டம் நடைபெற்ற ஆண்டு

(a) 1950

(b) 1946

(c) 1948

(d) 1947

The first meeting of the Constituent Assembly of India was held in

(a) 1950

(b) 1946

(c) 1948

(d) 1947

120. கீழ்க்கண்ட வாக்கியங்களை கவனி:

கூற்று (A) : மத்திய புலனாய்வு ஆண்டு அறிக்கையை குடியரசு தலைவர் சமர்ப்பிப்பார்

காரணம் (R) : இரண்டு அவைக்கும் லோக் சபா, இராஜ்ய சபாவிடம் அனுப்பி வைப்பார்.

a) (A) மற்றும் (R) b) (A) மற்றும் (R) இரண்டும் சரி இரண்டும் தவறு

c) (A) தவறு ஆனால் d) (A) சரி ஆனால்
(R) சரி (R) தவறு.

Consider the following statement:

Assertion(A) : The CVC has to present annually to the President a report on its performance.

Reason(R) : The President places this report before both House Parliaments.

- a) Both A and R are correct b) Both A and R are false
c) A is false but R is true d) A is true but R is true

121. கூட்டு வட்டி முறையில், ஒரு தொகையானது இரண்டு ஆண்டுகளில் ஒன்பது மடங்கு ஆகின்றது எனில், அதன் வட்டி வீதம் யாது?

- (a) 100% (b) 200%
(c) 300% (d) 150%

At what rate percent compound interest does a sum of money become nine fold in 2 years?

- (a) 100% (b) 200%
(c) 300% (d) 150%

122. சுருக்குக

$$4\sqrt{3}\sqrt{x^2}$$

(a) $x^{1/6}$

(c) $x^{1/3}$

Simplify

$$4\sqrt{3}\sqrt{x^2}$$

(a) $x^{1/6}$

(c) $x^{1/3}$

(b) $x^{1/12}$

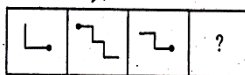
(d) $x^{1/4}$

(b) $x^{1/12}$

(d) $x^{1/4}$

123. விடுபட்ட படம் யாது?

Find the missing block (Answer: B)



(B),



(C)



(D)



124. கீழ்க்கண்ட ஆறுகளின் பெயர்களை பட்டியல் I-லிருந்து பட்டியல் II-யை பொருத்துக

பட்டியல் I

(பழைய பெயர்)

பட்டியல் II

(புதிய பெயர்)

- | | |
|-------------|------------|
| A) சுதுத்ரி | 1. ஜீனாப் |
| B) விபாஸ் | 2. சட்லெஜ் |
| C) பருஷினி | 3. பியாஸ் |
| D) அஷிகினி | 4. ராவி |

Match the following river names with suitable options:

List I

(Ancient Name)

List II

(New Name)

- | | |
|--------------|-----------|
| A) Shutudri | 1. Chenab |
| B) Vipas | 2. Sutlej |
| C) Parushini | 3. Beas |
| D) Asikini | 4. Ravi |

Codes:

- | | | | | |
|-----|---|---|---|---|
| | A | B | C | D |
| (a) | 1 | 2 | 3 | 4 |
| (b) | 2 | 4 | 1 | 3 |
| (c) | 1 | 4 | 2 | 3 |
| (d) | 2 | 3 | 4 | 1 |

125. மாநிலங்களின் ஜனாதிபதி ஆட்சியை ஏற்படுத்தப் பரிந்துரை செய்யும் விதி

- (a) விதி 354
(b) விதி 355
(c) விதி 356
(d) விதி 357

Which article of the constitution provides for the imposition of President's rule in the states?

- (a) Art 354
(b) Art 355
(c) Art 356
(d) Art 357

126. 'வடஓளிகள்', என்று பரவலாக அழைக்கப்படும்
'அரோரா போரியோலிஸ்' உருவாவதற்கான
காரணம்

(a) பூமியினது காந்தப்புலத்தில் பிடிபட்டுள்ள
காஸ்மிக் கதிர் துகள் அணுமோதல்களை
உருவாக்குகிறது.

(b) துருவங்களில், உள்ள ஒரு வகைச் சிறப்பு
நின்றொளிர்தல் பொருள் அமைந்திருத்தல்

(c) சூரிய மற்றும் பூமிக்கதிர்
வீச்சுகளுக்கிடையேயான குறுக்கீட்டு
விளைவு

(d) இவை அனைத்தும்

'Aurora Borealis', the so called northern lights are
due to

(a) the atomic collision of the trapped cosmic
ray particles in the Earth's magnetic field

(b) the presence of a special phosphorescent
material in the poles

(c) the interference of solar and terrestrial
radiations

(d) all of the above

127. ஓளிச்சேர்க்கையின் போது வெளியிடப்படும் வாயு
எது?

(a) கார்பன்-டை- (b) நைட்ரஜன்
ஆக்ஸைடு

(c) ஹைட்ரஜன் (d) ஆக்சிஜன்

Name the gas which is evolved during
photosynthesis

(a) Carbondioxide (b) Nitrogen

(c) Hydrogen (d) Oxygen

128. பொருத்துக:

A) ஆகஸ்ட் 1. 1944

சலுகை

B) C.R. திட்டம் 2. 1945

C) வேவல் திட்டம் 3. 1946

D) இடைக்கால 4. 1940

அரசாங்கம்

Match the following

- | | |
|-----------------|---------|
| A) August Offer | 1. 1944 |
| B) C.R. Formula | 2. 1945 |
| C) Wavell Plan | 3. 1946 |
| D) Interim | 4. 1940 |

Government

Codes:

A B C D

(a) 4 3 2 1

(b) 3 1 2 4

(c) 4 1 2 3

(d) 1 3 4 2

129. கீழ்க்காணும் அட்டவணையை கவனம் கொள்க

வருடம்:	1973-	1987-	1993-	1999-
	74	88	94	2000

இந்தியாவில்

ஏழ்மையில்

உள்ளவர்களின் 321 307 320 260

எண்ணிக்கை

(மில்லியனில்)

எந்த வருடம், அதன் முந்தைய வருடத்தைக்

காட்டிலும் இந்தியாவில் ஏழ்மையில்

உள்ளவர்களின் எண்ணிக்கை அதிகரித்துள்ளது?

(a) 1973-74

(b) 1987-88

(c) 1993-94

(d) 1999-2000

Consider the following statements:

Year:	1973-	1987-	1993-	1999-
	74	88	94	2000

Number of Poor in

India (in Million) 321 307 320 260

The year in which number of poor in India a
sharp increase over that of the preceding year
is

(a) 1973-74

(b) 1987-88

(c) 1993-94

(d) 1999-2000

130. கீழ்க்கண்ட வாக்கியங்களை கவனி:

கூற்று (A) : மூன்றாம் ஐந்தாண்டு திட்டம் நிறைவேற்றப்பட்ட பிறகு திட்ட விடுமுறைக்காலம் பின்பற்றப்பட்டது

காரணம் (R) : மூன்றாம் ஐந்தாண்டு திட்டம் இந்தியா-சீனா போரினாலும், இந்தியா-பாகிஸ்தான் போரினாலும் பாதிக்கப்பட்டது.

- a) (A) மற்றும் (R) b) (A) தவறு மற்றும் தவறானவை (R) சரி
c) (A) சரி (R) தவறு d) (A) மற்றும் (R) சரியானவை

Consider the following statement:

Assertion(A) : After the completion of the third five year plan 'Plan Holiday' was given.

Reason(R) : The third five year plan was affected by India-China war and India-Pakistan wars.

- a) Both A and R are false b) A is false and R is true
c) A is true and R is false d) Both A and R are true

131. 'உச்ச நீதிமன்றத்தின் முதல் பெண் நீதிபதி' யார்?

- (a) அன்னா சான்ட் (b) விஜயலக்ஷ்மி பண்டிட்
(c) இந்திரா காந்தி (d) பாத்திமா பீவி

Who was the first woman judge of the Supreme Court?

- (a) Hanna Chandy (b) Vijayalakshmi Pandit
(c) Indira Gandhi (d) Fathima Beevi

132. கீழ்க்கண்ட வாக்கியங்களை கவனி:

கூற்று (A) : நிர்வாக சீர்திருத்த ஆணையம்தான் லோக்பால் மற்றும் லோக்யக்தாயுக் ஏற்பத்தியது.

காரணம் (R) : 1. இது சுதந்திரமாக செயல்படுகிறது
2. இதில் அரசியல் சாரதவர்கள் உள்ளனர்.

- a) (A) மற்றும் (R) b) (A) மற்றும் (R) இரண்டும் தவறு
c) (A) தவறு ஆனால் d) (A) சரி ஆனால் (R) சரி (R) தவறு

Consider the following statement:

Assertion(A) : The (ARC) recommended that the institution of Lokpal and Lokayakta

Reason(R) : 1. Should be demonstratively Independent and Impartial.
2. Their appointment should be as far as possible non-Political.

- a) Both A and R are false b) Both A and R is correct
c) A is false but R is true d) A is true but R is false

133. A என்பவர் ஒரு வேலையின் $\frac{2}{3}$ பகுதியை 10 நாட்களில் செய்து முடிப்பார். அதே வேலையின் $\frac{1}{3}$ பகுதியை A செய்து முடிக்க ஆகும் நாட்களின் எண்ணிக்கை

- (a) 3 நாட்கள் (b) 4 நாட்கள்
(c) 5 நாட்கள் (d) 6 நாட்கள்

A can complete $\frac{2}{3}$ part of a work in 10 days. a can complete $\frac{1}{3}$ part of the same work in

- (a) 3 days (b) 4 days
(c) 5 days (d) 6 days

134. குறிப்பிட்ட தனிவட்டி வீதத்தில் ரூ. 800 ஆனது மூன்றாண்டுகளில் ரூ. 956 ஆக உயர்கிறது. தனிவட்டி வீதத்தை 4% அதிகரிப்பதால், மூன்றாண்டுகளுக்குப் பின் ரூ. 800ன் மதிப்பு, எந்தகத் தொகையாக மாறும்?

(a) ரூ. 1,020.80

(b) ரூ. 1,025

(c) ரூ. 1,052

(d) ரூ. 1,080.20

Rs. 800 becomes R. 956 in 3 years at certain simple rate of interest. If the rate of interest is increased by 4%, what amount will Rs.800 become in 3 years?

(a) Rs. 1,020.80

(b) Rs. 1,025

(c) Rs. 1,052

(d) Rs. 1,080.20

D) Neethi Nool

4. Kumaragurubarar

Codes:

A B C D

(a) 2 3 4 1

(b) 3 4 2 1

(c) 3 2 1 4

(d) 2 3 1 4

135. அமலா, ரூபாய் 6,000-த்தை ஒரு முதலீடு செய்கின்றார். இதில் முலாண்டில் 4% வட்டியும், இரண்டாமாண்டில் 5% வட்டியும், மூன்றாமாண்டில் 10% வட்டியும் கிடைக்கும் எனில், மூன்றாமாண்டின் முடிவில் அமலா பெறும் தொகை யாது?

(a) ரூ. 7,300

(b) ரூ. 7,007.2

(c) ரூ. 7,200

(d) ரூ. 7,207.2

Amala invests Rs. 6,000 in a bond which gives interest at 4% per annum during the first year, 5% during the second year, 10% during the third year. how much does she get at the end of the third year?

(a) Rs. 7,300

(b) Rs. 7,007.2

(c) Rs. 7,200

(d) Rs. 7,207.2

136. பட்டியல் I ஐ பட்டியல் II உடன் பொருத்துக

பட்டியல் I

பட்டியல் II

(நூல்கள்)

(ஆசிரியர்கள்)

A) கொன்றைவேந்தன்

1. மாயூரம்

வேதநாயகம்

B) நீதிநெறி விளக்கம்

2. சிவபிரகாசர்

C) நன்னெறி

3. அவ்வையார்

D) நீதிநூல்

4. குமரகுருபரர்

Match the following with suitable options:

List I

List II

(Works)

(Authors)

A) Kondrai Venthana

1. Mayuram

Vedanayagam

B) Neethineri

2. Sivaprakasara

Vilakkam

C) Nanneri

3. Avvaiyara

137. கீழ்க்கண்ட

கருத்துக்களில்

தவறானதை

சுட்டிக்காட்டு

(a) தேசிய மிருகம்

~ புலி

(b) தேசிய பறவை

~ மயில்

(c) தேசிய பூ

~ ரோஜா

(d) தேசிய பழம்

~ மாம்பழம்

(a) 1

(b) 2

(c) 3

(d) 4

Point out the wrong statement in the following

(a) National Animal

~ Tiger

(b) National Bird

~ Peacock

(c) National Flower

~ Rose

(d) National Fruit

~ Mango

(a) 1

(b) 2

(c) 3

(d) 4

138. உலக நாடுகளை, அமெரிக்க உளவு நிறுவனம், ரகசியமாக மின்னனு மூலம் கண்காணித்ததை உலகிற்கு வெளிப்படுத்திய அமெரிக்க உண்மை விளம்பி

(a) ஜீலியன் அஸ்ஸானே

(b) டானியல் பீரல்

(c) எட்வர்ட் ஸ்னோடன்

(d) மைக்கேல்சன்

Who is the Whistle Blower, who brought the secret of American Intelligence, doing the Global Electronic Surveillance on other nations, to the world?

(a) Julian Assanage

(b) Daniel Pearl

(c) Edward Snowden

(d) Mike Tisen

139. பின்வருவனவற்றுள் எது EMP வழித்தடம் எனவும் அழைக்கப்படும்?

- (a) கிளைகாலிஸிஸ்
(b) கிரெப் சுழற்சி
(c) எலக்ட்ரான் கடத்தல் சங்கிலி
(d) பென்டோஸ் பாஸ்பேட் வழித்தடம்

Which of the following is referred to as EMP pathway?

- (a) Glycolysis
(b) Kreb's cycle
(c) Electron transport chain
(d) pentose phosphate pathway

140. கீழ்க்கண்ட வாக்கியங்களை கவனி:

கூற்று (A) : பூச்சுண்ணும் தாவரம் பூச்சிகளின் உடலில் உள்ள புரோட்டீன்களை செறிக்கின்றன.

காரணம் (R) : பூச்சுண்ணும் தாவரம் நைட்ரஜன் பற்றாக்குறை உள்ள மண்ணில் வளரும்.

- a) (A) சரி (R) தவறு ஆனால் (R) இரண்டும் சரியானவை (A) -விற்கு மேலும் (R) சரியான விளக்கமல்ல (A) -விற்கு மேலும் (R) என்பது (A) -விற்கு சரியான விளக்கம்

- c) (A) சரி (R) தவறு ஆனால் (R) இரண்டும் தவறு

Consider the following statement:

Assertion(A) : Insectivorous plants digest proteins of insect body.

Reason(R) : Insectivorous plants grown in Nitrogen (N₂) deficient soil.

- a) A is true but R does not explain A
b) Both A and R are true, R explains A
c) A is true R is false
d) Both A and R are false

141. ஐந்தாண்டுத் திட்டத்தினை வகுப்பது

- (a) தேசிய வளர்ச்சிக் குழு
(b) பிரதம அமைச்சரின் அலுவலகம்
(c) ஐக்கிய நாடுகள் சபை
(d) திட்டக்குழு

Framing of 5 year plans:

- (a) National Development Council
(b) Prime Minister's Office
(c) United Nations Organisation
(d) Planning Commission

142. பொருத்துக:

- | | | | |
|-------------------------------------|-------|----|-----------|
| A) ஜவகர் வேலைவாய்ப்புத் திட்டம் | கிராம | 1. | 2000-2001 |
| B) நாட்டு சமூக உதவித் திட்டம் | | 2. | 1993 |
| C) வேலை வாய்ப்புத் திட்டம் | | 3. | 1999 |
| D) பிரதமரின் வேலைவாய்ப்புத் திட்டம் | | 4. | 1995 |

Match the following

- | | | | |
|-----------------------------------|--------|----|-----------|
| A) Jawahar Samridhi Yojana | Gram | 1. | 2000-2001 |
| B) National Assistance Programme | Social | 2. | 1993 |
| C) Employment Assurance Scheme | | 3. | 1999 |
| D) Pradhanmantri Gramodaya Yojana | | 4. | 1995 |

Codes:

- | | | | | |
|-----|---|---|---|---|
| | A | B | C | D |
| (a) | 3 | 1 | 2 | 4 |
| (b) | 4 | 3 | 1 | 2 |
| (c) | 3 | 4 | 2 | 1 |
| (d) | 2 | 3 | 1 | 4 |

143. அந்நியனை வெளியேற்று

இந்தியாவின் நவரத்ன நிறுவனங்கள்

- (a) BHEL (b) BPCL
(c) IOL (d) IPCL

Take the odd man out :

India's Navaratna Companies

- (a) BHEL (b) BPCL
(c) IOL (d) IPCL

144. பென்சிலில் உள்ள எழுதும் பொருளின் கலவை

- (a) கார்பன் மற்றும் நைட்ரஜன்
(b) கார்பன் மற்றும் ஆக்ஸிஜன்
(c) கார்பன் மற்றும் களிமண்
(d) கார்பன் மற்றும் கண்ணாடி

The mixture present in the pencil lead is:

- (a) Carbon and Nitrogen
(b) Carbon and Oxygen
(c) Carbon and Clay
(d) Carbon and Glass

145. 'அமிலம்' பற்றிய கீழ்க்கண்ட கூற்றுகளில் சரியானவை எவை?

- 1) அது நீல லிட்மஸ் தாளை சிவப்பாக மாற்றும்
2) அது 7-ஐ விட அதிகமான pH மதிப்பு உடையது.
3) அது காரத்துடன் வினைபுரிந்து உப்பையும் நீரையும் தருகின்றன.

- (a) 1 மற்றும் 2
(b) 1 மற்றும் 3
(c) 2 மற்றும் 3
(d) 3 மட்டும்

Which of the following statement(s) about 'acid' is TRUE?

- 1) It turns blue litmus paper to red.
2) It has pH value greater than 7.
3) It reacts with bases to give salt and water.
(a) 1 and 2
(b) 1 and 3
(c) 2 and 3
(d) 3 only

146. 2011-ம் ஆண்டு ஐக்கிய நாடுகள் சபையின் உறுப்பினராக சேர்ந்த நாடு எது?

- (a) கிழக்கு தைமார் (b) மாண்டிநிக்ரோ
(c) தெற்கு சூடான் (d) செர்பியா

Which country became a member of the U.N.O. in the year 2011?

- (a) East Timor (b) Montenegro
(c) South Sudan (d) Serbia

147. A, K, L, R மற்றும் U என்ற ஐவர் ஒரு வட்டமேசையை சுற்றி அமர்கின்றனர். U-க்கு இடப்பக்கத்தில் Kவும் மற்றும் Aவுக்கும் Uவுக்கும் இடையில் R-ம் அமர்ந்திருந்தால் L-க்கு பக்கத்தில் இருபுறமும் அமர்ந்தவர்கள்

- (a) K மற்றும் A (b) U மற்றும் A
(c) K மற்றும் R (d) A மற்றும் R

Five persons A, K, L, R and U are sitting around a circular table. K is immediate left to U and R is between A and U, then immediate neighbours of L are

- (a) K and A (b) U and A
(c) K and R (d) A and R

148. 7 மீ ஆரமுள்ள ஒரு வட்ட வடிவ மைதானத்தை சுற்றி வெளிப்புறம் 7 மீ அகலத்தில் ஒரு பாதை உள்ளது. எனில் பாதையின் _____
($\pi = 22/7$)

- (a) 154 ச.செ.மீ (b) 308 ச.செ.மீ
(c) 462 ச.செ.மீ (d) 616 ச.செ.மீ

A circular ground of radius 7 m has a path of width 7 m has a path of width 7 m around it on its outside. The area of the path is approximately equal to _____ ($\pi = 22/7$)

- (a) 154 sp.m (b) 308 sp.m
(c) 462 sp.m (d) 616 sp.m



149. ஒரு வேலையை முழுமையாக தனித்தனியே செய்து முடிக்க A, B, C ஆகியோருக்கு 12 நாட்கள், 6 நாட்கள் மற்றும் 3 நாட்கள் என்க. A, B இருவரும் வேலையை செய்ய ஆரம்பித்து மறுநாள் Cம் அவர்களோடு வேலையை செய்தால், அந்த வேலையை முழுமையாக செய்து முடிக்கத் தேவையான நாட்கள்

- (a) 2 2 நாட்கள் (b) 1 2 நாட்கள்
7 7
(c) 2 1 நாட்கள் (d) 1 1 நாட்கள்
7 7

A can do a work in 12 days; B in 6 days and C in 3 days. A and B start working together and after a day, C joins them. The total number of days required to complete the work is

- (a) 2 2 days (b) 1 2 days
7 7
(c) 2 1 days (d) 1 1 days
7 7

150. பட்டியல் Iஐ பட்டியல் IIஉடன் ஒப்பிட்டு, கீழே கொடுக்கப்பட்டுள்ள குறியீடுகளைக் கொண்டு சரியான விடையைத் தேர்ந்தெடு.

பட்டியல் I	பட்டியல் II
A) பிரம்ம சமாஜனம்	1. சுவாமி விவேகானந்தர்
B) ஆரிய சமாஜம்	2. மேடம் பிளவாட்ஸ்கி
C) ராமகிருஷ்ண மிஷன்	3. ராஜாராம் மோகன்ராய்
D) பிரம்மஞான சபை	4. சுவாமி தயானந்த சரஸ்வதி

Match List I with List II and select the correct answer using the codes given below

List I	List II
A) Brahma Samaj	1. Swami Vivekananda
B) Arya Samaj	2. Madame Blavatsky
C) Ramakrishna Mission	3. Rajaram Mohan Roy
D) Theosophical	4. Swami Dayanand

society

Saraswathi

Codes:

- | | A | B | C | D |
|-----|---|---|---|---|
| (a) | 3 | 4 | 1 | 2 |
| (b) | 3 | 2 | 1 | 4 |
| (c) | 4 | 1 | 2 | 3 |
| (d) | 1 | 3 | 4 | 2 |

151. உலகின் அதிகவேகமான சூப்பர் கம்பியூட்டர் ஜூன் 19, 2012-ல் அறிவிக்கப்பட்டத்தின் பெயர் யாது?

- (a) HCL (b) செகுவோடியா
(c) இன்டெல் (d) லெனோவா

The name of World's fastest Super Computer, announced on June 19, 2012 is

- (a) HCL (b) Sequoia
(c) Intel (d) Lenova

152. "இந்து வளர்ச்சி வீதம்" என்று பெயரிட்டவர் யார்?

- (a) தன்டேகர் மற்றும் இராஜ் (b) இராஜ் கிருஷ்ணன்
(c) P.D. ஒஜா (d) B.S. மின்காஸ்

Who gave the name "Hindu rate of growth"?

- (a) Dandekar and (b) Raj Krishnan Rath
(c) P.D. Ojha (d) B.S. Minhas

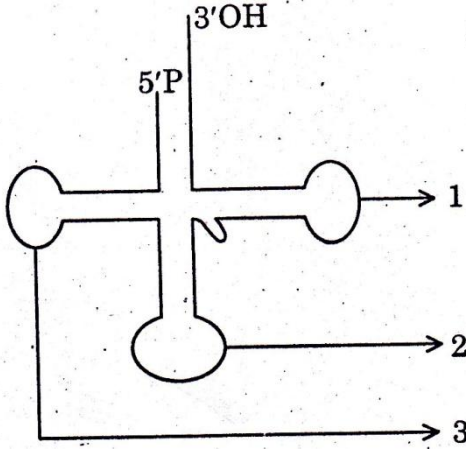
153. பின்வரும் நாடுகள் 2012 இலண்டனில் நடைபெற்ற ஒலிம்பிக்கில் பெற்ற மெடல் எண்ணிக்கையின் அடிப்படையில் இறங்கு வரிசையில் எழுது.

- 1) பிரிட்டன்
2) ரஷ்யா
3) சீனா
4) அமெரிக்கா
(a) 1, 3, 2, 4
(b) 4, 3, 1, 2
(c) 4, 2, 1, 3
(d) 4, 1, 3, 2

Arrange the following countries based on the number of medals won in London Olympics-2012 in descending order.

- 1) Britain
 - 2) Russia
 - 3) China
 - 4) America
- (a) 1, 3, 2, 4
(b) 4, 3, 1, 2
(c) 4, 2, 1, 3
(d) 4, 1, 3, 2

154. கொடுக்கப்பட்டுள்ள படத்தில் குறிக்கப்பட்டுள்ள பாகங்களின் சரியான வரிசையைத் தேர்ந்தெடுக்கவும்:



- (a) 1. டி.யு.சி வளையம் 2. எதிர்கோடான் வளையம் 3. டி.எச்.யு. வளையம்
(b) 1. எதிர்கோடான் வளையம் 2. டி.யு.சி வளையம் 3. டி.எச்.யு. வளையம்
(c) 1. டி.யு.சி வளையம் 2. டி.எச்.யு. வளையம் 3. எதிர்கோடான் வளையம்
(d) 1. டி.எச்.யு. வளையம் 2. எதிர்கோடான் வளையம் 3. டி.யு.சி வளையம்

Choose the correct order of the parts marked in the diagram.

- (a) 1. TUC loop 2. Anticodon loop 3. DHU loop
(b) 1. Anticodon loop 2. TUC loop 3. DHU loop
(c) 1. TUC loop 2. DHU loop 3. Anticodon loop
(d) 1. DHU loop 2. Anticodon loop 3. TUC loop

155. பின்வருவனவற்றுள் பொருந்தாதது எது?

- (a) வேளாண் பயிர்கள் ~ பசுமை புரட்சி
(b) முட்டை மற்றும் கோழி வளர்ப்பு ~ வெண்மை புரட்சி
(c) கடல்சார் பொருட்கள் ~ நீல புரட்சி
(d) தோட்டக்கலை ~ தங்க புரட்சி

Which of the following is incorrectly matched?

- (a) Agricultural crops ~ Green Revolution
(b) Eggs and poultry ~ White Revolution
(c) Marine products ~ Blue Revolution
(d) Horticulture ~ Golden Revolution

156. கொடுக்கப்பட்டவற்றுள் தவறானவைகள் எவை?

- 1) இந்திய உணவுப் பிரச்சினை தன்மை, உணவு தானியங்களின் தேவை அளிப்பை சார்ந்ததாகும்.
- 2) இந்திய உணவுப் பிரச்சினை தன்மை, தரம், பகிர்வு, பொருளாதாரம் சார்ந்தது.
- 3) இந்திய உணவுப் பிரச்சினை கொள்முதல் முறையை சிறப்பாக நடைமுறைப் படுத்தாதேயாகும்.
- 4) இந்தியாவின் உணவுப் பிரச்சினை தன்மை நியாயமான பங்கீடு கிடைக்கச் செய்யாதேயாகும்.

- (a) 1 மற்றும் 2 தவறானது
(b) 4 மட்டும் தவறானது
(c) 3 மற்றும் 4 தவறானது
(d) 1 மற்றும் 3 தவறானது

Consider the following and select the false ones:

- 1) India's food problem is concerned with demand and supply of food grains.
- 2) India's food problem is concerned with quality, distribution and economic reasons.
- 3) India's food problem is concerned with procurement of food grains.
- 4) India's food problem is concerned with

improper distribution.

- (a) 1 and 2 false
- (b) 4 alone false
- (c) 3 and 4 false
- (d) 1 and 3 false

157. கீழே கொடுக்கப்பட்டவைகளில் இருந்து சரியான பதிலை தேர்ந்தெடுக்கவும்
தொடர்ச்சியான இடியுடன் கூடிய புயலின் விளைவால் ஏற்படுவது.

- (a) நிலச்சரிவும் வெள்ளமும்
- (b) ஆழிப்பேரலைகள்
- (c) நிலநடுக்கம்
- (d) எரிமலை வெடிப்பு

Choose the correct answer from the following

- (a) Landslides and floods
- (b) Tsunami
- (c) Earthquake
- (d) Volcanic eruption

158. உரம் பற்றிய கீழ்க்கண்ட சரியானவை எவை?

- 1) அது விலை குறைவாக கிடைக்க வேண்டும்
- 2) அது தாவரங்களால் எளிதில் உறிஞ்சத்தக்க வகையில் இருக்க வேண்டும்.
- 3) அது நீரில் எளிதில் கரையக்கூடாது.
- (a) 1 மற்றும் 2
- (b) 2 மற்றும் 3
- (c) 1 மற்றும் 3
- (d) 3 மட்டும்

Which of the following statements about 'Fertilizer' is TRUE?

- 1) It should be available in low cost.
- 2) It should be easily assimilated by plants.
- 3) It should not dissolve readily
- (a) 1 and 2
- (b) 2 and 3
- (c) 1 and 3
- (d) 3 only

159. கீழே கொடுக்கப்பட்டுள்ள வேதிப் பொருட்களின் குழுமத்திற்குப் பொருந்தாததைக் கண்டறி
BHC, DDT, 2, 4-D, யூரியா

- (a) BHC
- (b) DDT
- (c) 2, 4-D
- (d) Urea

Identify the odd one from the group of chemicals given below:

- BHC, DDT, 2, 4-D, Urea
- (a) BHC
- (b) DDT
- (c) 2, 4-D
- (d) Urea

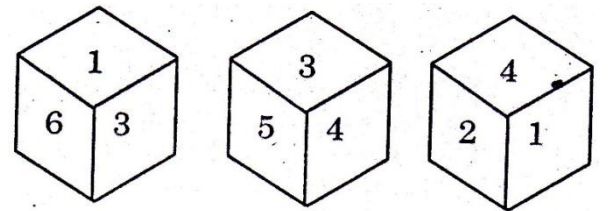
160. ஒரு தேர்வில் 30% மாணாக்கியர் ஆங்கிலப் பாடத்தில் தேர்ச்சி பெறவில்லை. 40% மாணாக்கியர் ஹிந்திப் பாடத்தில் தேர்ச்சி பெறவில்லை. இரண்டு பாடத்திலும் தேர்ச்சி பெறாதவர்கள் 20% என்றால்

- (a) 50%
- (b) 20%
- (c) 10%
- (d) 60%

In an examination 30% of total students failed in English, 40% of students failed in Hindi and 20% in both. Find the percentage of students who passed in both the subjects.

- (a) 50%
- (b) 20%
- (c) 10%
- (d) 60%

161. ஒரு பகடையின் 3 நிலைகள் கீழேத் தரப்பட்டுள்ளது.



- (a) 5
- (b) 3
- (c) 6
- (d) 1

Three positions of the same die are given. Find the number opposite to the side represented by 2.

- (a) 5
- (b) 3
- (c) 6
- (d) 1

162. RIVER என்பதை OFSBO எனும் குறியீட்டால் தரப்படி, WATER எனும் குறியீடு எதனைக் குறிக்கும்?

- (a) ZDWIU (b) ZDWHU
(c) ZCWIV (d) ZCUJW

If RIVER is coded as OFSBO then WATER is decoded as

- (a) ZDWIU (b) ZDWHU
(c) ZCWIV (d) ZCUJW

163. பொருத்துக:

- A) லார்கானா 1. குஜராத்
மாவட்டம்
B) காளிபங்கன் 2. பஞ்சாப்
C) லோத்தல் 3. இராஜஸ்தான்
D) ஹரப்பா 4. சிந்து

Match the following

- A) Larkana 1. Gujarat
District
B) Kalibangan 2. Punjab
C) Lothal 3. Rajasthan
D) Harappa 4. Sind

Codes:

- A B C D
(a) 3 1 2 4
(b) 4 3 1 2
(c) 1 2 4 3
(d) 2 4 3 1

164. சரியாக விடையை தேர்ந்தெடுத்து பொருத்தவும்:

- A) அண்மையில் இராணுவப் 1. பிரேஸி
புரட்சி ஏற்பட்டது ல்
B) ஸ்னோடென்னின் புகலிட 2. இந்தியா
கோரிகையை
நிராகரித்தது
C) தொடர் குண்டு வெடிப்பு 3 இங்கில
நிகழ்ந்த மகாபோதி ாந்து
ஆலயம் உள்ள இடம்
D) 10 வருடத்திற்கு பிறகு 4 எகிப்து
ஆண்டிமுர்ரே விம்பிள்டன்

பட்டம் பெற்று அவர்
நாட்டிற்குப் புகழ் சேர்த்தார்

Match the following and choose the right answer:

- A) Recent Military camp 1. Brazil
took place in
B) Snowden's plea for 2. India
asylum was rejected by
C) Serial Bomb-Blast took 3. England
place at Mahabodhi
temple is in
D) After 10 years andy 4. Egypt
Murry brought laurels to
his country by becoming
Wimbledon Champion

Codes:

- A B C D
(a) 4 3 2 1
(b) 3 1 2 4
(c) 2 3 4 1
(d) 1 2 3 4

165. பட்டியல் I-ல் உள்ள வனவிலங்குகளின் சராசராலங்களை பட்டியல் II-ல் உள்ள இருப்பிடங்களுடன் பொருத்துக

பட்டியல் I

பட்டியல் II

- A) விராலி மலை 1. மேற்குத் தொடர்ச்சி
மலை
B) முக்குருத்தி 2. காஞ்சிபுரம்
தேசிய பூங்கா மாவட்டம்
C) இந்திராகாந்தி 3. நீலகிரி மலை
வன உயிரி
சரணாலயம்
D) வேடந்தாங்கல் 4. திருச்சி மாவட்டம்
பறவைகள்
சரணாலயம்

Match the Wild Life Sanctuaries in List I with their location in List II

List I

List II

- A) Viralimalai 1. Western ghats
B) Mukkurthi 2. Kancheepuram

- National Park district (c) 1 and 3
C) Indira Gandhi 3. The Nilgiris (d) 2, 3 and 4
Wild Life
Sanctuary
D) Vedanthangal 4. Trichy district

Codes:

A B C D

(a) 3 1 2 4

(b) 4 3 1 2

(c) 1 2 4 3

(d) 2 4 3 1

166. இந்திய தேசிய உணர்வு விழிபடையக் காரணமான கீழ்க்கண்டவற்றின் தன்மையைக் கவனி

1) முக்கியமாக அது சுற்றறிந்தோரால் தொடங்கப்பட்டது.

2) தேசிய இயக்கத்தில் சமுதாயத்தின் அனைத்து தரப்பு மக்களும் ஆங்கிலேயர்களுக்கு எதிராக ஒருங்கிணைத்தனர்.

3) 1920-ற்குப் பிறகு காந்தியடிகள் அதற்கு தலைமையேற்று நடத்தினார்.

4) காந்தியடிகள் கிலாபத் இயக்கத்தை ஆரம்பித்தார்.

(a) 1 மற்றும் 2

(b) 1, 2 மற்றும் 3

(c) 1 மற்றும் 3

(d) 2, 3 மற்றும் 4

Consider the following statements with reference to the nature of the Indian National awakening:

- 1) It was basically started by intellectuals.
- 2) It was a movement in which, all sections of society became united against the English.
- 3) After 1920, national movement was led by Gandhiji.
- 4) Gandhiji started the Khilafat movement.

(a) 1 and 2

(b) 1, 2 and 3

167. இந்தியாவில் பசுமை புரட்சியை அறிமுகப்படுத்திய அமைப்பு

(a) ICAR

(b) ICMR

(c) ISRO

(d) CSIR

The organization which introduced Green Revolution in India is

(a) ICAR

(b) ICMR

(c) ISRO

(d) CSIR

168.

1) சந்திரனை எரிநட்சத்திரம் என அழைக்கலாம்

2) சந்திரனை துணைக்கோள் என அழைக்கலாம்

3) சந்திரனை குருங்கோள்கள் என அழைக்கலாம்

4) சந்திரனை வால் நட்சத்திரம் என அழைக்கலாம்

(a) 1 மற்றும் 3 மட்டும் சரி

(b) 2 மட்டும் சரி

(c) 2 மற்றும் 4 சரி

(d) 4 மட்டும் சரி

1) Moon is called a Meteoroids

2) Moon is called a Satellite.

3) Moon is called a Asteroids

4) Moon is called a Comet

(a) 1 and 3 are correct

(b) 2 is only correct

(c) 2 and 4 are correct

(d) 4 is only correct

169. தவறாக பொருந்தியுள்ள இணையைத் தேர்ச

(a) பசுமைப்புரட்சி ~ வேளாண் உற்பத்தி

(b) வெண்மைப் புரட்சி ~ பால் மற்றும் பால் பொருட்கள்

(c) சாம்பல் புரட்சி ~ எண்ணெய் வித்துக்கள்

(d) பொன் புரட்சி ~ பழங்கள்

Choose incorrectly matched pair

(c) 6 years

(d) 7 years

(a) Green Revolution ~ Agricultural

crops

(b) White Revolution ~ Milk and Milk

products

(c) Grey Revolution ~ Oil seeds

(d) Golden Revolution ~ Horticulture

172. டாக்டர் முத்துலட்சுமி ரெட்டி அவர்கள்

ஆரம்பித்த ஆதரவற்றோர் இல்லத்தின் பெயர்

(a) சரஸ்வதி இல்லம் (b) ஓளவை இல்லம்

(c) அன்பு இல்லம் (d) லட்சுமி இல்லம்

Dr. Muthulakshmi Reddy started an orphanage known as

(a) Saraswathi Illam (b) Avvai Illam

(c) Anbu Illam (d) Lakshmi Illam

170. சரியான விடையை தேர்ந்தெடுக்க:

சாம்பல் நிற அணிகள் சரணாலயம் எந்த மாவட்டத்தில் உள்ளது?

(a) நீலகிரி (b) சிவகங்கை

(c) விருதுநகர் (d) கன்னியாகுமரி

Choose the correct answer:

In which District Grizzled Squirrel Wild Life Sanctuary is found?

(a) Nilgris (b) Sivagangai

(c) Virudhunagar (d) Kanyakumari

173. சரியாக பொருத்துக

பட்டியல் I

பட்டியல் II

- | | |
|-----------------------------|---------------|
| A) முதலாம் இராஜேந்திர சோழன் | 1. பிரம்மகிரி |
| B) கார்வேலர் | 2. அலகாபாத் |
| C) அசோகர் | 3. ஹதிசும்பா |
| D) சமுத்திரகுப்தர் | 4. மால்பாடி |

Match the following

List I

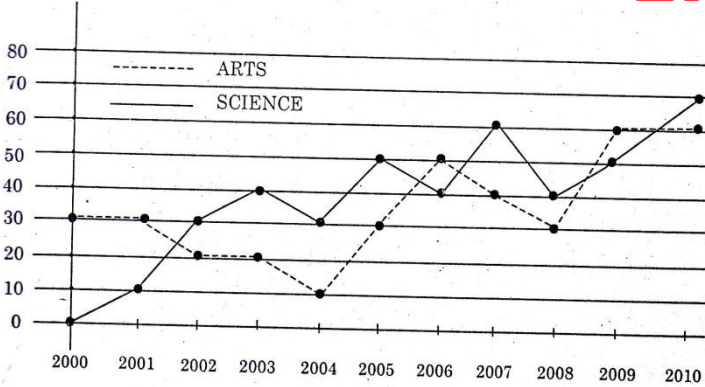
List II

- | | |
|---------------------|-----------------|
| A) Rajendra Chola I | 1. Brahma Giri |
| B) Karavela | 2. Allahabad |
| C) Ashoka | 3. Hathi Kumbha |
| D) Samudra Gupta | 4. Malpadi |

Codes:

- | | | | | |
|-----|---|---|---|---|
| | A | B | C | D |
| (a) | 2 | 4 | 3 | 1 |
| (b) | 3 | 1 | 2 | 4 |
| (c) | 4 | 3 | 1 | 2 |
| (d) | 1 | 2 | 4 | 3 |

171. ABC என்ற பதிப்பகத்தின் இரு பிரிவு புத்தகங்களின் விற்பனை 2000-2010 (ஆயிரத்தில்)



2000 முதல் 2009 வரை எத்தனை ஆண்டுகள் அறிவியல் புத்தகங்கள் கலைப் புத்தகங்களை விட அதிகமாக விற்பனை செய்யப்பட்டது?

(a) 4 ஆண்டுகள் (b) 5 ஆண்டுகள்

(c) 6 ஆண்டுகள் (d) 7 ஆண்டுகள்

Sales by two category for ABC press. 2000-2010 (in thousands of books)

In how many years did the sales of sciences books exceed the sale of arts books from 2000 to 2009?

(a) 4 years (b) 5 years

174. பட்டியல் I ஐ பட்டியல் II உடன் ஒப்பிட்டு, கீழே கொடுக்கப்பட்டுள்ள குறியீடுகளைக் கொண்டு சரியான விடையைத் தேர்ந்தெடு.

பட்டியல் I

பட்டியல் II

- | | |
|--|---------|
| A) தேசிய கிராமபுற வேலைவாய்ப்புத் திட்டம் | 1. 1985 |
| B) ஜவஹர் ரோஜகர் யோஜனா | 2. 1993 |
| C) இந்திரா ஆவாஜ் | 3. 1980 |

யோஜனா

D) பிரதம மந்திர ரோஜகர் 4. 1989

யோஜனா

Match List I with List II and select the correct answer using the codes given below the lists

List I

List II

- | | | | |
|-----------------------------------|--------|----|------|
| A) National Employment Programme | Rural | 1. | 1985 |
| B) Jawahar Yojana | Rozgar | 2. | 1993 |
| C) Indira Awaz Yojana | | 3. | 1980 |
| D) Prime Minister's Rozgar Yojana | | 4. | 1989 |

Codes:

A B C D

(a) 4 1 3 2

(b) 3 4 2 1

(c) 3 4 1 2

(d) 1 2 3 4

175. கீழ்க்கண்ட வாக்கியங்களைக் கவனி

- 1) ஏட்ரியோ வென்டிரிகுலார் வால்வுகள் மூடுவதால் "லப்" என்ற ஒலி தோன்றுகிறது.
- 2) அரைச் சந்திர வால்வுகள் மூடுவதால் "டப்" என்ற ஒலி தோன்றுகிறது.

சரியான விடையைத் தேர்ந்தெடுக்கவும்

- (a) 1 சரி 2 தவறு
(b) 1 தவறு 2 சரி
(c) 1 மற்றும் 2 தவறு
(d) 1 மற்றும் 2 சரி

Consider the following statements

- 1) The closure of Atrio ventricular valves result in "lubb" sound.
- 2) The closure of semilunar valves result in "dubb" sound.

Choose the right answer

- (a) 1 is correct and 2 is wrong
(b) 1 is wrong and 2 is correct

(c) Both 1 and 2 are wrong

(d) Both 1 and 2 are correct

176. இரத்தம் உறைதலுக்கு அவசியமான வைட்டமின் மற்றும் தாது உப்பை (தனிமத்தை) பெயரிடு.

- (a) வைட்டமின் D மற்றும் கால்சியம்
(b) வைட்டமின் B மற்றும் சோடியம்
(c) வைட்டமின் K மற்றும் கால்சியம்
(d) வைட்டமின் C மற்றும் அயோடின்

Name the vitamin and Mineral necessary for blood clotting

- (a) Vitamin D and Calcium
(b) Vitamin B and Sodium
(c) Vitamin K and Calcium
(d) Vitamin C and Iodine

177. கீழ்க்கண்ட வாக்கியங்களைக் கவனி:

கூற்று (A) : 1910ஆம் ஆண்டு வ.உ.சிதம்பரம் பிள்ளை சுதேசிக் கப்பல் கம்பெனியை துவக்கினார்
காரணம் (R) : கப்பலோட்டிய தமிழன் என்று வ.உ.சிதம்பரம் பிள்ளை அழைக்கப்படுகிறார்.

- a) (A) மற்றும் (R) இரண்டும் உண்மை
b) (A) மற்றும் (R) இரண்டும் உண்மை
ஆனால் (A) வுக்கு சரியான விளக்கம் (R) இல்லை

- c) (A) உண்மை (R) தவறானவை
d) (A) தவறானவை (R) உண்மை

Assertion (A) : V.O.Chidambaram Pillai established Swadeshi Steam Navigation Company in 1920

Reason (R) : V.O. Chidambaram Pillai is called as Kappalottiya Tamilan.

- a) Both A and R are true
b) Both A and R are true but R is not the correct explanation of A
c) A is true R is false
d) A is false R is true

Arrange the Remote Sensing Satellites as per year of launching _____

- 1) IRS
2) SPOT
3) TRIOS
4) LANDSAT

குறியீடு

- (a) 1, 2, 4, 3 (b) 3, 4, 2, 1
(c) 1, 2, 3, 4 (d) 4, 3, 1, 2

178. கீழ்க்கண்ட கூற்றுகளில் தவறானதைக் சுட்டிக்காட்டவும் :

- 1) வ.உ.சி. எட்டயபுரத்தில் பிறந்தார்
2) அன்னி பெசன்ட் பிரம்ம ஞான சபையைத் தொடங்கினார்
3) பாரதியார் பாண்டிச்சேரியில் மரணமடைந்தார்
4) சுய மரியாதை இயக்கத்தை எ.வே.ரா. தொடங்கினார்

குறியீடு

- (a) 1, 3 மற்றும் 4 (b) 2, 3 மற்றும் 4
(c) 1, 2 மற்றும் 4 (d) 1, 2 மற்றும் 3

Point out the wrong statement/statements in the following:

- 1) V.O.C. born at Ettayapuram
2) Annie Besant started Theosophical Society
3) Bharathiyar died at Pondicherry
4) E.V.R. started Self-Respect Movement

குறியீடு

- (a) 1, 3 and 4 (b) 2, 3 and 4
(c) 1, 2 and 4 (d) 1, 2 and 3

179. தொலை நுண்ணுர்வு விண்கலங்களை அது விண்ணில் செலுத்தப்பட்ட வருடத்தைக் கொண்டு கீழிருந்து மேலாக அடுக்குக.

- 1) ஐ.ஆர்.எஸ்
2) ஸ்பாட்
3) டிரையோஸ்
4) லாண்ட்சாட்

குறியீடு

- (a) 1, 2, 4, 3 (b) 3, 4, 2, 1
(c) 1, 2, 3, 4 (d) 4, 3, 1, 2

180. பொருத்தமற்ற இணையை தெரிந்தெடுக்க

உயிர் கோளம்

மாநிலம்

- (a) கான்கா - மத்திய பிரதேசம்
(b) நந்தா தேவி - உத்தராஞ்சல்
(c) மானஸ் - அசாம்
(d) நாம்தாப்பா - அருணாச்சல பிரதேசம்

குறியீடு

- (a) 1 (b) 2
(c) 3 (d) 4

Identify the incorrect pair.

Biosphere

States

- (a) Kanha - Madhya Pradesh
(b) Nandadevi - Uttranchal
(c) Manas - Assam
(d) Namdhapa - Arunachala Pradesh

குறியீடு

- (a) 1 (b) 2
(c) 3 (d) 4

181. $2a \times 1a = 41a$ மற்றும் $2b \times 1b = 37b$ ஆகிய பெருக்கல்களில் a மற்றும் b என்பன மிகை முழு எண்களைக் குறித்தல் $a + b =$

- (a) 15 (b) 11
(c) 7 (d) 13

In the products $2a \times 1a = 41a$; $2b \times 1b = 37b$, a and b represent positive integers. Then $a + b =$

- (a) 15 (b) 11
(c) 7 (d) 13

182. பின்வரும் எண்கள் தொடர் வரிசையில்

பொருந்தாத எண்ணைக் கண்டுபிடி

1, 144, 16, 25, 49, 81, 121, 36, 62

- (a) 1 (b) 49
(c) 121 (d) 62

Find the odd man out in the following :

1, 144, 16, 25, 49, 81, 121, 36, 62

- (a) 1 (b) 49
(c) 121 (d) 62

D) Punjab

4. Kathakali

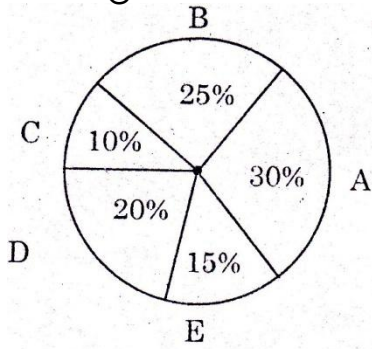
Codes:

A B C D

- (a) 1 2 3 4
(b) 3 1 4 2
(c) 2 4 1 3
(d) 4 2 3 1

183. 2011 – 2012-க்கான உலக தேயிலை உற்பத்தியில் 5

நாடுகளின் பங்கு :



வட்டத்தின் மையத்தில் E ன் வட்டக் கோணம்

- (a) 15° (b) 30°
(c) 54° (d) 72°

The World-Wide Tea product of 5 countries for the year 2011-2012

The angle subtended by E at the centre of the circle is

- (a) 15° (b) 30°
(c) 54° (d) 72°

184. பொருத்துக:

பட்டியல் I

- A) ஆந்திரா
B) கேரளா
C) தமிழ்நாடு
D) பஞ்சாப்

பட்டியல் II

1. பரதநாட்டியம்
2. குச்சிப்படி
3. பாங்ரா
4. கதகளி

Match the following

List I

- A) Andhra
B) Kerala
C) Tamil Nadu

List II

1. Bharathanatyam
2. Kuchipudi
3. Bangra

185. சென்னை மாநிலம் 'தமிழ்நாடு' என அண்ணா பெயர் மாற்றம் செய்த ஆண்டு

- (a) 1957 (b) 1977
(c) 1969 (d) 1947

Anna changed, the official name of the state from 'Madras' of Tamil Nadu in

- (a) 1957 (b) 1977
(c) 1969 (d) 1947

186. பொருத்துக:

- | | |
|------------------|---------------------|
| A) மால்குடி டேஸ் | 1. கௌடில்யா |
| B) ஹர்ஷா | 2. சுவாமி தயாநந்தர் |
| C) அர்த்த | 3. ஆர்.கே.நாராயண |
| D) சத்யர்த் | 4. பானா பட்டா |
| சரித்தா | |
| சாஸ்திரம் | |
| பிரகாஷ் | |

Match the following

- | | |
|-----------------|------------------|
| A) Malgudi Days | 1. Kautilya |
| B) Harsha | 2. Swami Dayanad |
| C) Arthasasthra | 3. R.K.Narayan |
| D) Satyarth | 4. Bana Bhatta |
| Prakash | |

Codes:

A B C D

- (a) 3 4 1 2
(b) 2 3 4 1
(c) 4 1 2 3
(d) 3 1 4 2

187. பட்டியல் I ஐ பட்டியல் II உடன் ஒப்பிட்டு, கீழே கொடுக்கப்பட்டுள்ள குறியீடுகளைக் கொண்டு சரியான விடையைத் தேர்ந்தெடு.

பட்டியல் I	பட்டியல் II
A) ருமேட்டிக் மூட்டு வலி	1. பரவும் தொற்றுநோய்
B) பெல்லக்ரா	2. சுய நோய்த் தடுப்பு குறைபாடு நோய்
C) காலரா	3. பாரம்பரிய நோய்
D) சுதிர்அரிவான் இரத்த சோகை	4. வைட்டமின் குறைவினால் உண்டாகும் நோய்

Match List I with List II and select the correct answer using the codes given below the lists

List I	List II
A) Rheumatic arthritis	1. Contagious disease
B) Pellagra	2. Auto immune disease
C) Cholera	3. Hereditary disease
D) Sick cell anaemia	4. Vitamin deficiency disease

Codes:

A	B	C	D
(a) 3	1	2	4
(b) 2	4	1	3
(c) 2	1	4	3
(d) 3	4	2	1

188. பட்டியல் I ஐ பட்டியல் II உடன் ஒப்பிட்டு, கீழே கொடுக்கப்பட்டுள்ள குறியீடுகளைக் கொண்டு சரியான விடையைத் தேர்ந்தெடு.

பட்டியல் I	பட்டியல் II
A) தத்துவ போதினி சபை	1. ஹென்றி விவியன் தெரோஜியோ
B) இளம் வங்காள இயக்கம்	2. விஷ்ணு சாஸ்திரி பண்டிட்
C) விதவை மறுமண சங்கம்	3. வீரேசலிங்கம்

D) ஹிதகர்னி சமாஜம்

4. தேவேந்திரநாத் தாகூர்

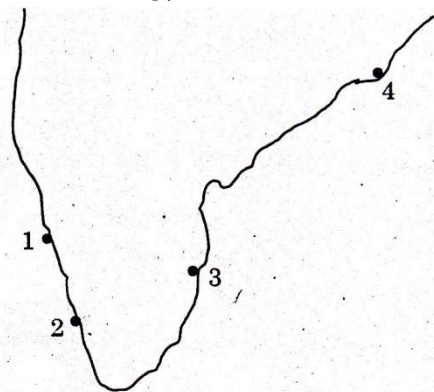
Match List I with List II and select the correct answer using the codes given below the lists

List I	List II
A) Tattavabodhini Sabha	1. Henry Vivian Derozio
B) Young Bengal Movement	2. Vishnu Sashtri Pandit.
C) Widow Remarriage Society	3. Veeresalingam
D) Hitakarini Samajam	4. Devendranath Tagore

Codes:

A	B	C	D
(a) 4	1	2	3
(b) 4	3	2	1
(c) 3	4	1	2
(d) 2	1	4	3

189. கப்பல் துறையினை தெரிந்தெடுத்து அதன் பெயரை குறியிடுக:



1. பாரதீப்
2. மங்களூர்
3. சென்னை
4. கொச்சின்

- (a) பாரதீப், கொச்சின், சென்னை, மங்களூர்
- (b) மங்களூர், பாரதீப், சென்னை, கொச்சின்
- (c) மங்களூர், கொச்சின், சென்னை, பாரதீப்
- (d) கொச்சின், மங்களூர், சென்னை, பாரதீப்

Identify the Seaports and name them

- (a) Paradwip, Cochin, Chennai, Mangalore
- (b) Mangalore, Paradwip, Chennai, Cochin
- (c) Mangalore, Cochin, Chennai, Paradwip
- (d) Cochin, Mangalore, Chennai, Paradwip

190. பாராளுமன்றத்தின் கூட்டு அமரவை (கூட்டத்தை) நடத்துவது யார்?

(a) குடியரசு தலைவர் (b) துணை குடியரசு தலைவர்

(c) சபாநாயகர் (d) பிரதம மந்திரி

Who presides over the joint sessions of the Parliament?

(a) The President (b) The Vice-President

(c) The Speaker (d) The Prime Minister

(a) 1 (b) 2
(c) 3 (d) 0

194. 43, 91, 183 ஆகிய எண்களை எந்த மிகப் பெரிய எண்ணால் வகுக்கும் பொழுது மீதி சமமாக கிடைக்கும்?

(a) 4 (b) 7
(c) 9 (d) 8

Find the greatest number that will divide 43, 91, 183 so as to leave the same remainder in each case.

(a) 4 (b) 7
(c) 9 (d) 8

191. தேசிய மேம்பாட்டு குழு எந்த ஆண்டு உருவாக்கப்பட்டது?

(a) 1952 (b) 1955
(c) 1959 (d) 1962

The National Development Council was established in the year.

(a) 1952 (b) 1955
(c) 1959 (d) 1962

195. மீப்பெரு பொது காரணி 15 ஆக இருக்குமாறு எத்தனை ஜோடி எண்கள் 40க்கும் 100க்கும் இடையே இருக்கும்?

(a) 3 (b) 4
(c) 5 (d) 2

The number of number-pairs lying between 40 and 100 with their H.C.F. as 15 is

(a) 3 (b) 4
(c) 5 (d) 2

192. $2 \div 3 = 89$, $3 \div 4 = 2716$, $4 \div 3 = 649$, எனில் $1 \div 2 = ?$

(a) 24 (b) 14
(c) 4 (d) 10

$2 \div 3 = 89$, $3 \div 4 = 2716$, $4 \div 3 = 649$, then $1 \div 2 = ?$

(a) 24 (b) 14
(c) 4 (d) 10

196. ஒரு வட்டமான தோட்டத்தைச் சுற்றி ஒரே நேரத்தில் துவங்கி A, B, C, D என்பவர்கள் ஒரே திசையில் ஓடுகின்றனர். ஒரு முறை சுற்றி வர A, B, C, D என்பவர்கள் எடுத்துக் கொள்ளும் கால அளவு முறையே 30 நிமிடங்கள், 60 நிமிடங்கள், 90 நிமிடங்கள் மற்றும் 105 நிமிடங்கள் ஆகும். துவக்கப் புள்ளியில் எத்தனை மணிக்கு பிறகு இவர்கள் மீண்டும் சந்திப்பார்கள்?

(a) 15 மணி நேரம் (b) 10 மணி நேரம்
(c) 21 மணி நேரம் (d) 20 மணி நேரம்

A, B, C, D start at the same time to run around a circular garden in the same direction. A completes a round in 30 minutes, B in 60 minutes, C in 90 minutes and D in 105 minutes. After what time will they meet again at the starting point?

193. வெவ்வேறான 5 பொருட்களை A, B, C, D மற்றும் E ஆகியவற்றை 1, 2, 3, 4, 5 B மற்றும் E ஆகியவற்றை ஒன்றாக வைக்க முடியாது, எனில் பொருட்கள் வைக்கப்படாத பெட்டிகளின் அதிகபட்ச எண்ணிக்கை

(a) 1 (b) 2
(c) 3 (d) 0

Five distinct items A, B, C, D and E are to be placed in distinct boxes numbered as 1, 2, 3, 4, 5. Items B and E cannot be grouped together. Maximum number of boxes can be left out without items is

(a) 15 hours

(b) 10 hours

(b) ஃபைக்காலஜி

(c) 21 hours

(d) 20 hours

(c) மைக்காலஜி

(d) டோமாலஜி

197. எண்கள் 15, 25, 40 மற்றும் 75 ஆல் வகுபடும்
மிகப்பெரிய நான்கு இலக்க எண் என்ன?

(a) 9600

(b) 3000

(c) 9800

(d) 8540

Find the greatest number of 4 digits which is
divisible by 15, 25, 40 and 75

(a) 9600

(b) 3000

(c) 9800

(d) 8540

198. பின்வரும் இலக்கியப் படைப்புகளை
வரிசைப்படுத்துக:

1) முத்ரா ராக்ஷசம்

2) மத்தவிலாச பிரகசனம்

3) மிலிந்தபன்ஹா

4) அர்த்த சாஸ்திரம்

(a) 1, 2, 4, 3

(b) 3, 4, 1, 2

(c) 4, 1, 3, 2

(d) 4, 3, 1, 2

Arrange the following literary works in
Chronological order:

1) Mudra rakshasa

2) Mattavilasa Prakasana

3) Milindapanho

4) Arthasastra

(a) 1, 2, 4, 3

(b) 3, 4, 1, 2

(c) 4, 1, 3, 2

(d) 4, 3, 1, 2

199. பாசிகளை ஆய்ந்தறியும் அறிவியலின் பெயர்
என்ன?

(a) ஃபிசியாலஜி

What is the study of Algae called?

(a) Physiology

(b) Phycology

(c) Mycology

(d) Pomology

200. இவற்றுள் எது BRIC தேசங்களின்
அங்கம்இல்லை?

(a) சிலி

(b) பிரேசில்

(c) சீனா

(d) இந்தியா

Which of these is not among the BRIC Nations?

(a) Chile

(b) Brazil

(c) China

(d) India

